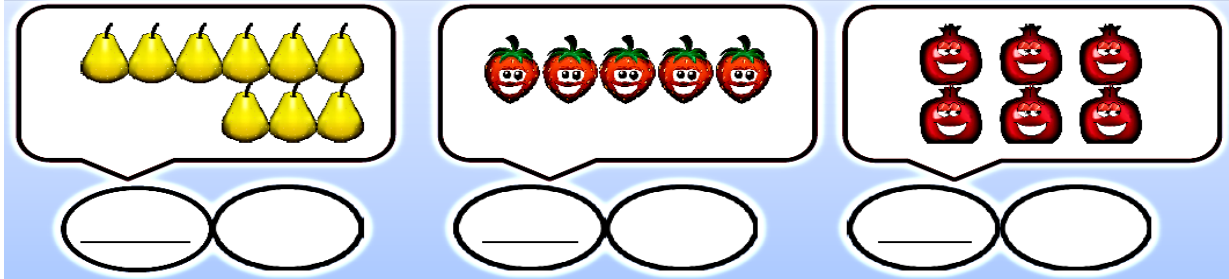


به نام خدا

آزمون ریاضی پایه اول دی ماه ۹۹ دبستان غیر دولتی معرفت شهید دانشیار

نام و نام خانوادگی:

۱- تعداد هر دسته را با عدد و چوب خط نشان بده.



۲- بین اعداد علامت مناسب ($>$ $=$ $<$) بگذار.


$۲ \square ۷$

$۸ \square ۸$

$۵ \square ۳$

$۶ \square ۹$

۳- برای این شکل جمع مناسب بنویس.



۴- نیمه پایین را طوری رنگ کن که هر دو نیمه مانند هم باشند.



به نام خدا


آزمون ریاضی پایه اول دی ماه ۹۹ دبستان غیر دولتی معرفت شهید دانشیار

نام و نام خانوادگی:

۵- جدول شگفت انگیز را با اعداد مناسب کامل کن.

۴	۱	۵	۲	۶	۷	۹	۸	۳
۲	۹	۶	۵	۸	۳	۷	۴	۱
۷	۳			۹	۴		۵	۶
۱	۲			۴	۶	۵	۳	۷
۵	۸	۳	۷	۲	۹	۱	۶	۴
۶	۷	۴	۳	۱			۹	۲
۸	۵	۷	۴	۳			۲	۹
۳	۶	۱	۹	۵	۲	۴	۷	۸
۹	۴	۲	۶	۷	۸	۳	۱	۵

۶- چتر اندازه چند مداد است؟



۸- الگو را ادامه بده.

