


به نام خدا

آزمون ریاضی پایه اول دی ماه ۹۹ دبستان غیر دولتی معرفت شهید دانشیار

نام و نام خانوادگی:

۱- تعداد هر دسته را با عدد و چوب خط نشان بده.



۲- بین اعداد علامت مناسب ($>$ $=$ $<$) بگذار.


$$۲ < ۷$$

$$۸ = ۸$$

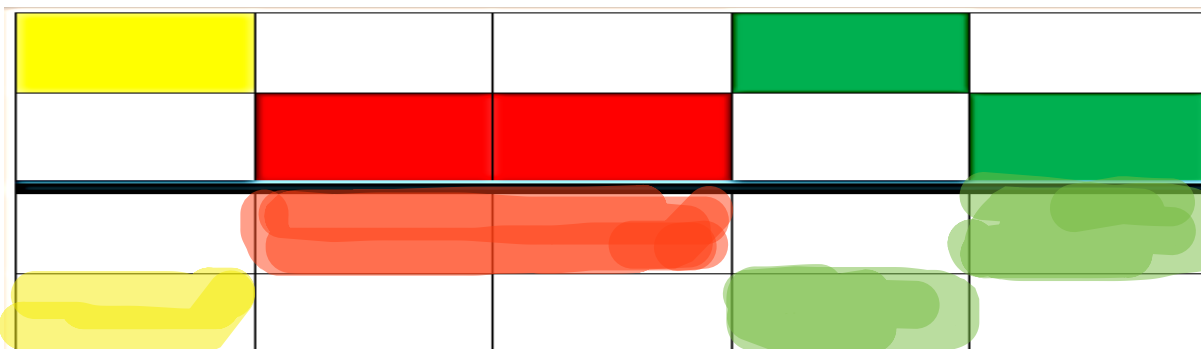
$$۵ > ۳$$

$$۶ < ۹$$

۳- برای این شکل جمع مناسب بنویس.



۴- نیمه پایین را طوری رنگ کن که هر دو نیمه مانند هم باشند.



به نام خدا


آزمون ریاضی پایه اول دی ماه ۹۹ دبستان غیر دولتی معرفت شهید دانشیار

نام و نام خانوادگی:

۵- جدول شگفت انگیز را با اعداد مناسب کامل کن.

۴	۱	۵	۲	۶	۷	۹	۸	۳
۲	۹	۶	۵	۸	۳	۷	۴	۱
۷	۳	۸	۱	۹	۴	۲	۵	۶
۱	۲	۹	۸	۴	۶	۵	۳	۷
۵	۸	۳	۷	۲	۹	۱	۶	۴
۶	۷	۴	۳	۱	۵	۸	۹	۲
۸	۵	۷	۴	۳	۱	۶	۲	۹
۳	۶	۱	۹	۵	۲	۴	۷	۸
۹	۴	۲	۶	۷	۸	۳	۱	۵

۶- چتر اندازه چند مداد است؟



۸- الگو را ادامه بده.

